

۱- نام اجزاء سخت افزاری که در شکل زیر نشان داده شده را در کنار فلش مربوط به آن بنویسید.



۲- کدامیک از موارد زیر از اجزاء سخت افزار رایانه محسوب نمی شود؟

الف: صفحه نمایش      ب: پرینتر (چاپگر)      ج: ویندوز      د: صفحه کلید

۳- بعد از روشن شدن رایانه، صفحه ای نمایان می شود که به آن ..... می گوییم.

الف) ویندوز (Windows)      ب) نماد (Icon)      ج) میز کار (Desktop)      د) صفحه نمایش (Monitor)

۴- با حرکت دادن ماوس، علامت فلشی روی صفحه نمایش حرکت می کند به این علامت ..... می گوییم.

الف) نماد (Icon)      ب) کلیک (Click)      ج) اشاره گر (pointer)      د) میز کار (Desktop)

۵- یک صفحه کلید شامل کدامیک از کلید های زیر می شود؟

الف) کلید های حرفی      ب) کلید های اعداد      ج) کلید فاصله      د) همه موارد


۶- در هنگام کار کردن با رایانه باید به چه نکات بهداشتی توجه کرد؟


الف) فاصله صفحه نمایش از چشم      ب) تنظیم تکیه گاه پشت      ج) تنظیم ارتفاع صندلی (متناسب با قد)      د) همه موارد

۷- به تصاویر کوچکی که در میز کار رایانه قرار دارند چه می گوییم؟


الف) اشاره گر (pointer)      ب) ویندوز (Windows)      ج) نماد (Icon)      د) دکمه شروع

۸- برنامه نقاشی از کدام مسیر زیر اجرا می شود؟

الف)  ← همه برنامه ها ← نقاشی

ب)  ← همه برنامه ها ← لوازم جانبی ← نقاشی


ج) روشن (power) ← همه برنامه ها ← لوازم جانبی ← نقاشی

د)  ← لوازم جانبی ← نقاشی

۹- برای رنگ آمیزی زمینه نقاشی از کدام گزینه زیر استفاده می کنیم؟

الف)  (ب)  (ج)  (د) 

۱۰- در هر قسمت از نقاشی، با کلیک روی کدام گزینه می توان آخرین تغییرات را لغو کرد؟

الف)  (ب)  (ج)  (د) 

۱۱- برای تغییر رنگ داخل شکل های بسته تو خالی از کدام ابزار زیر استفاده می کنیم؟

الف)  (ب)  (ج)  (د) 

۱۲- در برنامه نقاشی (Paint) یک نقاشی کشیده ایم و ذخیره کردیم، به نقاشی ذخیره شده ..... می گوئیم.

الف) پوشه (Folder) (ب) پرونده (File) (ج) نماد (Icon) (د) هیچ کدام صحیح نیست

۱۳- برای دسته بندی و دسترسی راحت تر و سریع تر اطلاعات، حافظه رایانه به چند ..... تقسیم می شود.

الف) پوشه (Folder) (ب) پرونده (File) (ج) درایو (دیسک محلی) (Drive) (د) نماد (Icon)

۱۴- برای نوشتن متن در صفحه نقاشی از کدام ابزار زیر استفاده می کنیم؟

الف)  (ب)  (ج)  (د) 





۱۵- بعد از عمل حذف به وسیله کلید Delete، پرونده در ..... قرار می گیرد.

الف) میز کار (Desktop) (ب) سطل زباله (Recycle Bin) (ج) دیسک محلی (د) به طور کامل حذف میشود

۱۶- بوسیله کدام گزینه زیر می توان از یک پرونده نسخه ی دیگری تهیه نمود؟

الف) بازبایی (ب) سازماندهی (ج) کپی (Copy) و جایگذاری (د) انتخاب (Select)

۱۷- برای کشیدن اشکال هندسی از کدام ابزار برنامه نقاشی استفاده می شود؟

الف -  (ب)  (ج)  (د) 

۱۸- برای خروج از برنامه نقاشی از کدام گزینه استفاده می شود؟

الف -  (ب)  (ج)  (د) 