



به نام خدا

مجتمع آموزشی غیردولتی پسرانه میلاد


پیک آدینه شماره ۳

مورخ


نام قشنگ پسرگلم



ریاضی




۱. برای شکل زیر یک جمع ستونی و یک جمع سطری بنویسید .



۲. با رقم های (۹ و ۸ و ۶) تا می توانی اعداد ۲ رقمی بنویسید .

الف) بزرگ ترین عدد دو رقمی که با رقم های بالا نوشته شده است؟
 ب) کوچک ترین عدد دو رقمی که با رقم های بالا نوشته شده است؟



۳. جواب جمع و تفریق های زیر را حساب کنید .

$40 + 30 = \dots\dots\dots$


$80 - 40 = \dots\dots\dots$

$70 + 20 = \dots\dots\dots$



$90 - 50 = \dots\dots\dots$

$30 + 60 = \dots\dots\dots$

$60 - 50 = \dots\dots\dots$



۴. عددهای (۴۶ ، ۱۵ ، ۳۴) را روی محور نشان دهید .




۵. پسر گلم جاهای خالی را کامل کن .

..... دسته ی ده تایی به اضافه ی دسته ی ده تایی می شود دسته ی ده تایی

$30 + 50 = \dots\dots\dots$ یعنی



۶ دسته ی ده تایی منهای ۴ دسته ی ده تایی می شود دسته ی ده تایی

$60 - 40 = \dots\dots\dots$ یعنی



۶. جمع کدام سه عدد مساوی ۱۴ می شود ؟ $4 + 3 + 5$ $10 + 8$ $3 + 7 + 4$ $8 + 7$





www.khakesta.com

www.khakesta.com

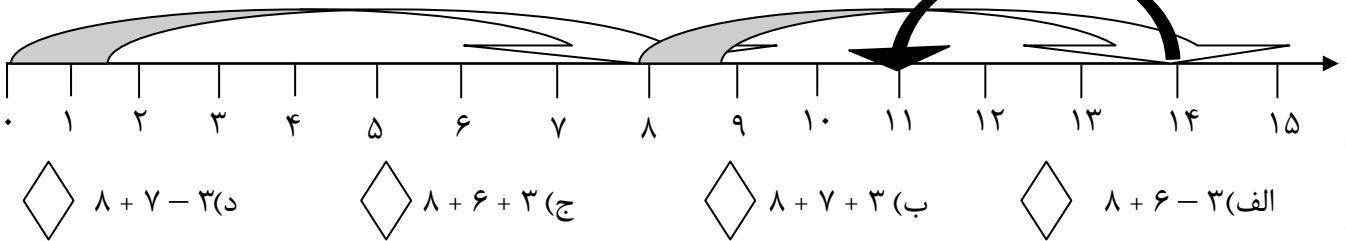
۸. الگوهای عددی زیر را پیدا کنید و بنویسید.

۱۰ - ۱۵ - ۲۰ -

۱۶ - ۱۸ - ۲۰ -

۱۷ - ۲۱ - ۲۵ -

۹. محور زیر نشان دهنده ی کدام گزینه است ؟



فارسی

۱. جمله ها را کامل کن .

ما ایرانی

من ایرانی هستم .

..... ایرانی

..... تو ایرانی

..... آن ها ایرانی

..... او

۲. سه کلمه (خرس کوچولو - میکروب ها - دست های کثیف) را در یک جمله به کار ببر .



۳. حرف های درهم ریخته ی زیر را مرتب کنید و جمله بسازید.

م - ج - ا - ت - ع

و - م - ج - د - ت - ا - و

۴. هر کلمه را به معنای آن وصل کن .

یاری	اکنون	آغاز	تازه	بجنگد
جدید	کمک	مبارزه کند	شروع	حالا

۵. جمله ی پرسشی بنویسید .

(۱) در پاییز برگ درختان زرد می شود

(۲) آرامگاه سعدی در شیراز است

۶. پسر نازم با مخالف کلمه ی گریه جمله بسازید .

۷. عزیزم دلم چهار کلمه بنویس که در آن ها کلمه بازی باشد .

.....

۸. پسر خوبم ادامه ی جمله ی زیر را بنویس .

من یک ایرانی هستم . کشورم را دوست دارم ، چون

۹. در کدام یک از گزینه های زیر غلط املایی وجود دارد؟

(الف) احوال پرسی (ب) تصمیم (ج) مجودات (د) چراغانی

۱۰. عزیزم نوشته ی زیر را تا دو خط ادامه بده .

آموزگار وقتی وارد کلاس شد ، به دانش آموزان گفت :

.....

.....



علوم

۱. انسان از برای رفع تشنگی استفاده می کند .

- (الف) آب دریاها (ب) آب تصفیه شده (ج) آب رودخانه ها (د) آب باران

۲. کشاورزان چه استفاده ای از آب رودخانه می کنند ؟

- (الف) ماهی گیری (ب) ذخیره آب (ج) شستشو در آب (د) آبیاری زمین کشاورزی

۳. برای بیان دقیق آنچه که دیده ایم نیاز به داریم .

- (الف) مشاهده دقیق (ب) گفتار قوی (ج) حافظه قوی (د) یادداشت برداری

۴. عاملی که باعث آلودگی هوا می شود کدام است ؟

- (الف) استفاده از وسایل نقلیه عمومی (ب) کاشتن گل و درخت و سبزه
(ج) استفاده از دوچرخه (د) استفاده زیاد از اتومبیل شخصی

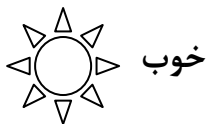
۵. اگر خورشید نتابد

- (الف) گیاهان می میرند (ب) زمین یخ می زند
(ج) انسان ها نمی توانند زندگی کنند (د) همه ی موارد

هدیه ها

۱. نعمت یعنی چه ؟

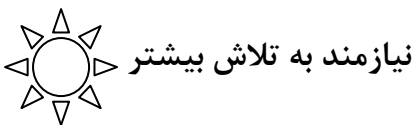
۲. چگونه می توانیم با خدا صحبت کنیم ؟



خوب



خیلی خوب



نیازمند به تلاش بیشتر



قابل قبول



صالحی و رنجبر