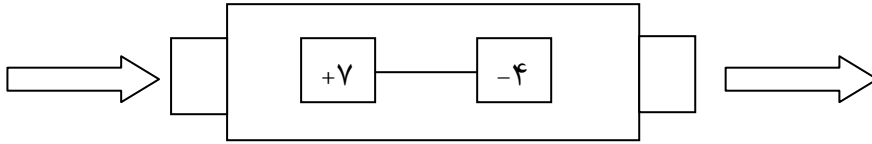
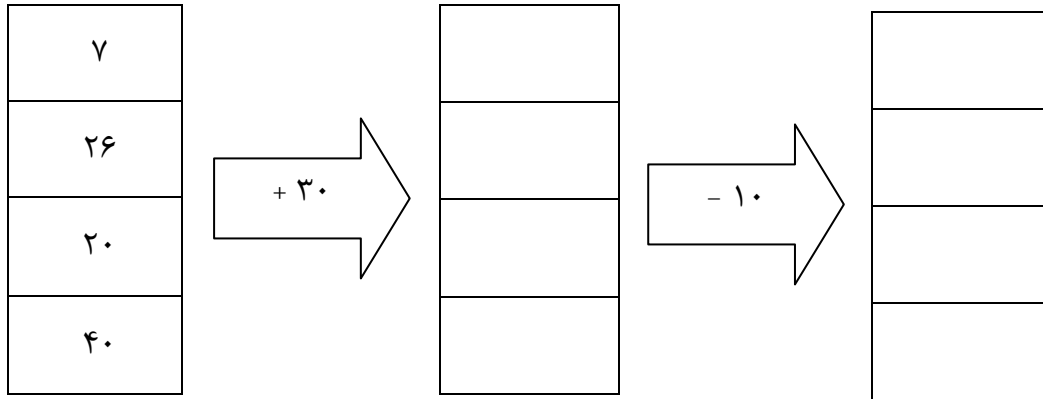


۱. کاری که ماشین رو به رو انجام می دهد، توضیح دهید .



۲. جاهای خالی را کامل کنید .



۳. شکل باز شده ی مکعب چند وجه دارد ؟

۴. مستطیل چند خط تقارن دارد ؟

۵. یک برنامه رادیویی در ساعت ۱۹ پخش می شود . زمان پخش این برنامه ساعت چند بعد از ظهر است ؟

۶. اتوبوسی ساعت ۷ صبح از تهران به سوی مشهد حرکت کرد بعد از ۱۰ ساعت به مشهد رسید این اتوبوس چه زمانی به مشهد رسیده است ؟

۷. جواب جمع های زیر را پیدا کنید با دیدن حاصل جمع ها چه نتیجه ای می گیرید؟

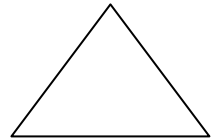



$$۴ + ۶ + ۷ + ۳ =$$

$$۳ + ۷ + ۶ + ۴ =$$

۸. حاصل جمع های زیر را به سه صورت پیدا کنید و بنویسید .

$$۳ + ۴ + ۶ + ۷ + ۸$$

۹. خط تقارن شکل های زیر را رسم کنید . (با استفاده از خط کش)



۱۰. جدول زیر را کامل کنید .

زمان	۱۵		۹ : ۳۰		۱۴	هفت و ربع
بعد از ظهر		۸		13:15		

۱۱. الگوی شمارش رو به عقب را کامل کنید از ماشین حساب کمک بگیرید .

..... ، ۴۰ ، ۴۵ ، ۵۰

..... ، ۵۴ ، ۶۳

۱۲. با استفاده از ماشین حساب ، الگوهای زیر را ادامه دهید و درباره ی الگو توضیح دهید .

۰ ، ۹ ، ۱۸ ، ۲۷ ، ، ، ،