

نام خانوادگی: نام: اداره آموزش و پرورش ناحیه 4 کرج

موضوع: آزمون ماهانه ریاضی (مهرماه) (مجمع آموزشی غیردولتی میلاد)

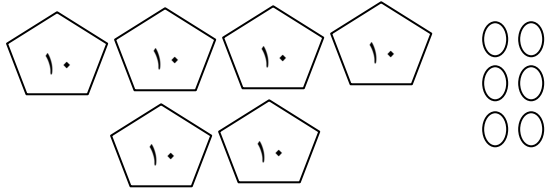
پایه: دوّم

.....



۱. چهار دسته ی ده تایی و هفت یکی بکش ←

حالا در جاهای خالی عدد مناسب بنویس . با عدد : با حروف :



۲. شکل مقابل چه عددی را نشان می دهد؟

با عدد :

با حروف :

www.miladsch.ir

۳. در جاهای خالی عدد مناسب بنویسید .

۲۸ برابر است با یکی و ده تایی

صفر یکی و نه ده تایی می شود

۴. عدد قبل و بعد را در جای خالی بنویس .



۵. برای شکل زیر یک جمع و دو تفریق بنویس .



..... + =

..... - =

..... - =

۹۳ - ۸۹ - ۷۵ - ۷۱ - ۶۶ - ۹ - ۲۰ - ۱۲ - ۳۴ - ۵۰

۶. این اعداد را از کم تر به بیش تر مرتب کن .

Empty rounded rectangular box for writing the sorted numbers.

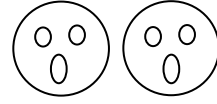

۷. به جای علامت مناسب $< = >$ بگذار.

$42 \quad \square \quad 24$

$9 + 6 \quad \square \quad 10 + 5$

$8 - 4 \quad \square \quad 8 - 5$

۸. جای خالی را با عدد مناسب پر کن.



$(\dots + \dots) + \dots = \square$

یا

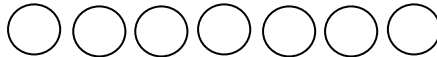

$(\dots + \dots) + \dots = \square$

۹. در جای خالی عدد مناسب بنویس.

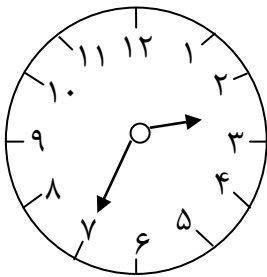
$8 + 3 = 10 + \square$

$5 + 7 = 10 + \square$

۱۰. دور ده تایی اول خط بکش سپس تساوی را کامل کن.



$7 + 7 = 10 + \square$



۱۱. ساعت چند است؟

ساعت : است

۱۲. رضا در هر دست خود ۸ نی دارد او در دو دست خود چند نی دارد؟

۱۳. در جای خالی عدد مناسب بنویس.

$17 = 10 + \dots$

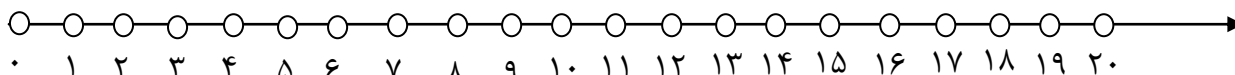
$(6 + 3) + 2 = \square$

$14 = 10 + \dots$

$(3 + 7) + 4 = \square$

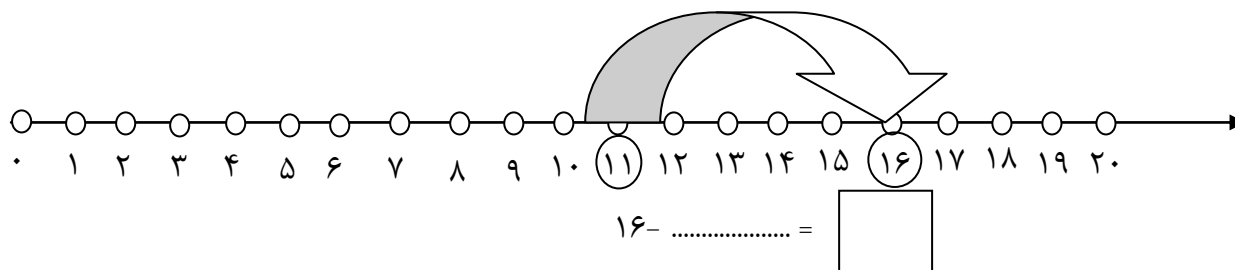
۱۴. در یک باشگاه ورزشی دیروز ۶ نفر و امروز صبح ۵ نفر و بعدازظهر ۴ نفر ثبت نام کردند . چند نفر روی هم ثبت نام کرده اند ؟

۱۵. روی محور ۶ شماره برو جلو بعد ۹ شماره دیگر هم جلو برو . حالا برای این محور جمع مناسب بنویس .



۱۶. علی ۵ سال دارد و حمید ۸ سال . حمید چند سال بزرگ تر است ؟

۱۷. با توجه به عدد ، محور را کامل کن و با توجه به محور تفریق آن را کامل کن .



۱۸. جمع های مربوط به هم را وصل کن.

$$(۸+۲)+۴$$

$$۸+(۲+۴)$$

$$۱+(۹+۴)$$

$$۹+(۱+۵)$$

$$(۹+۱)+۵$$

$$(۱+۹)+۴$$

۱۹. در جای خالی عدد مناسب بنویس .
 $(۷ + \dots) + ۶ = \dots + (۴ + \dots) = \square$

۲۰. در شکل زیر جمع هایی که حاصل آن ۸ می شود را بنویس .

