

۱. برای بیان دقیق آنچه که دیده ام نیاز به ..... دارم .

الف) مشاهده دقیق ( ) ب) یادداشت مشاهدات ( ) ج) حافظه قوی ( ) د) گفتار قوی ( )

\*\*\*\*\*

۲. عاملی که باعث آلودگی هوا می شود کدام است ؟

الف) استفاده از وسایل نقلیه عمومی ( ) ب) استفاده از دوچرخه برای رفت و آمد در شهر ( )  
ج) کاشتن درخت و گل و سبزه ( ) د) استفاده زیاد از اتومبیل های شخصی ( )

\*\*\*\*\*

۳. انسان از ..... برای رفع تشنگی استفاده می کند .

الف) آب دریاها ( ) ب) آب رودخانه ها ( ) ج) آب تصفیه شده ( ) د) آب باران ( )

\*\*\*\*\*

۴. کشاورزان چه استفاده ای از رودخانه می کنند ؟

الف) آبیاری زمین کشاورزی ( ) ب) ماهی گیری ( ) ج) ذخیره آب ( ) د) شستشو در آب ( )

\*\*\*\*\*

۵. کدام جمله نادرست است علامت بزن .

الف) زمین به دور خود می چرخد ( ) ب) خورشید ثابت است و اصلاً حرکت نمی کند ( )  
ج) خورشید به دور زمین می چرخد ( )

\*\*\*\*\*

۶. در جاهای خالی کلمه ی مناسب بنویس .

خورشید زمین را روشن و ( ) می کند .  
حرکت زمین به دور خود باعث به وجود آمدن ( ) و ( ) می شود .  
زمین هر ( ) ساعت یک بار به دور خود می چرخد .

\*\*\*\*\*

۷. برای اندازه گیری گرمی و سردی هوا از ( ) استفاده می کنند .

\*\*\*\*\*

۸. کدام یک از جانوران زیر روزها استراحت می کنند و شب ها فعالیت می کنند ؟



۹. در کدام تصویر هوا خنک تر است آن را رنگ کن.

۱۰. به وسیله ی رنگ کردن قسمت وسط دماسنج ، نشان بده کدام دماسنج گرمای بیش تری را نشان می دهد ؟

۱۱. در جای خالی کلمه ی مناسب بنویس .

جهت وزش باد را نشان می دهد .

بادهای شدید را می گویند .


۱۲. کدامیک را باد بیش تر تغییر می دهد ؟



(ج) کوهستان



(ب) بیابان

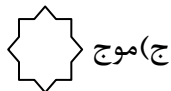


(الف) جنگل

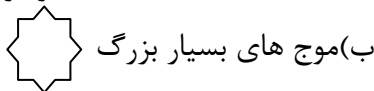
۱۳. طوفان می تواند در دریاها ..... به وجود آورد .




(د) فضا



(ج) موج

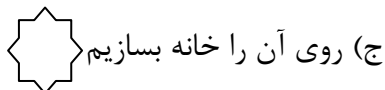


(ب) موج های بسیار بزرگ




(الف) باد

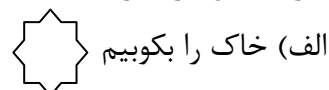
۱۴. برای جلوگیری از جابه جا شدن خاک می توانیم .....



(ج) روی آن را خانه بسازیم



(ب) گیاه بکاریم



(الف) خاک را بکوبیم

۱۵. از باد چه استفاده هایی می شود ؟

۱۶. چگونه می توانیم به حفظ محیط زیست کمک کنیم ؟

۱۷. گیاهان برای رشد به چه چیزهایی نیاز دارند ؟

۱۸. چرا شب ها خنک تر از روزهاست ؟



صالحی . رنجبر