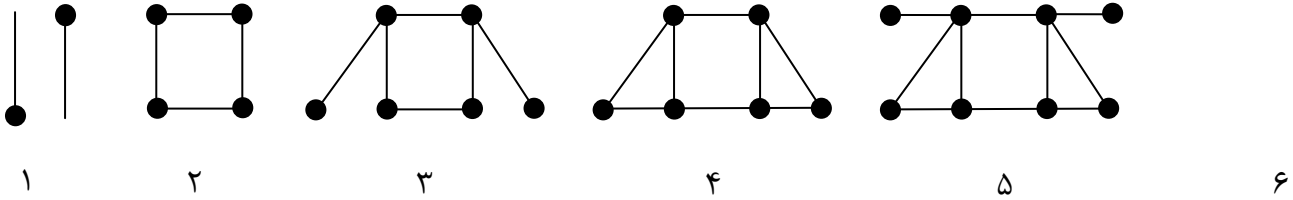
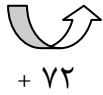


۱. پس از کشف الگویی که در شکل ها ست شکل ۶ یا چند چوب کبریت درست می شود؟



۲. می خواهیم الگوی زیر را ادامه دهیم با کشیدن شکل ، دو عدد بعدی را پیدا کنید .

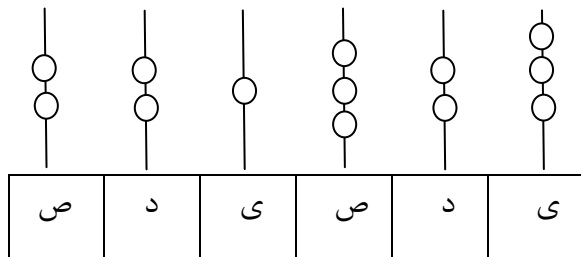
۷۲ ، ۱۴۴ ، ۲۱۶ ، ۲۸۸ ،



عدد هفتم این الگو را با انجام محاسبه پیدا کنید و بنویسید .

۳. عددی را که چرتکه نشان می دهد در جدول ارزش مکانی قرار دهید . سپس به عدد و حروف بنویسید .

با عدد با حروف



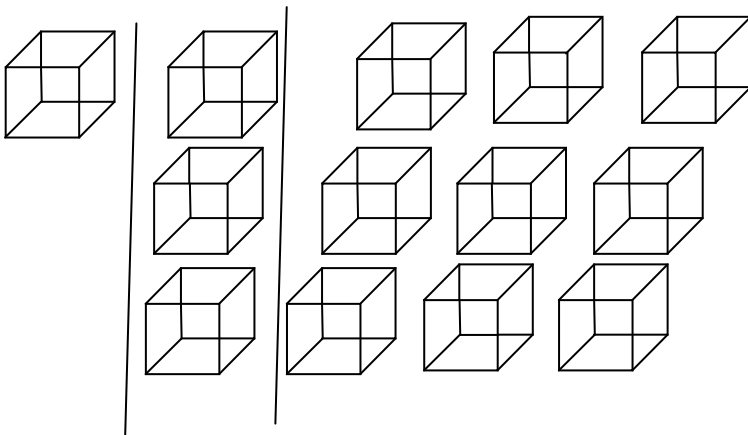
هزار					
ص	د	ی	ص	د	ی

۴. گسترده ی عددها را بنویسید .

$761920 =$

$270389 =$

۵. هر مکعب نشان دهنده ی عدد ۱۰۰۰۰ است عددی را که هر شکل نشان می دهد را بنویسید .



- اگر ۱۰ مکعب کنار هم قرار بگیرند

چه عددی درست می شود؟

با حروف :

با عدد :

۶. توضیح دهید که چگونه عدد ۷ رقمی مثل ۶۸۳۲۵۴۷ را می خوانید؟

۷. جاهای خالی را کامل کنید .

الف) چهارتا ده هزار تا برابر است با

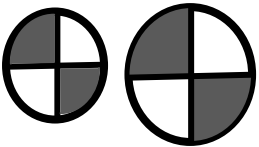
ب) ده تا ده هزار تایی برابر است با

ج) بیست تا صد هزار تا می شود

۸. علی تصمیم دارد هر روز ۵ صفحه از یک کتاب ۶۰ صفحه ای را بخواند حساب کنید در روز هفتم چند صفحه از کتاب

باقی می ماند؟ (الگوی خواندن را بکشید)

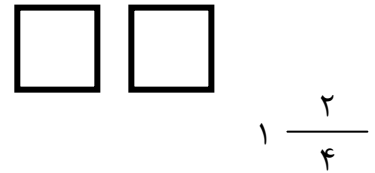
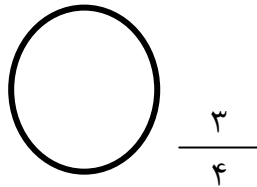
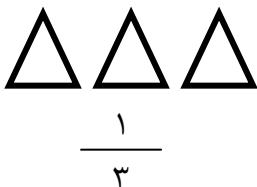
۹. شباهت و تفاوت بین دو شکل را بنویسید .



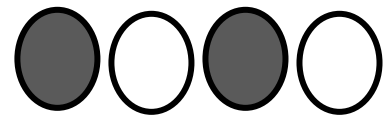

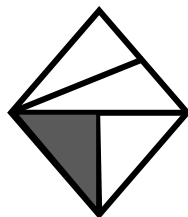
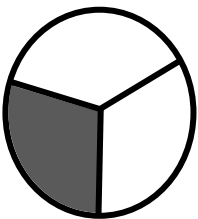
شباهت :

تفاوت :


۱۰. شکل ها را با توجه به کسر داده شده رنگ کنید .



۱۱. کدام یک از شکل ها نشان دهنده ی کسر $\frac{1}{4}$ است؟ (قسمت رنگ شده)



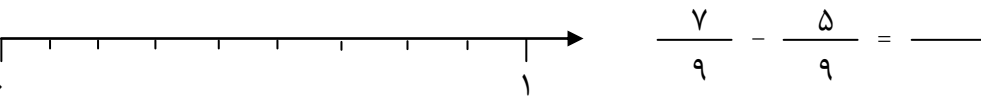
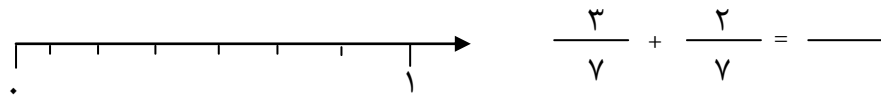
۱۲. $\frac{3}{5}$ واحد بعد از عدد ۲ را روی محور اعداد نشان دهید.



۱۳. کسرهای زیر را با هم مقایسه کنید.



۱۴. حاصل جمع های زیر را به دست آورید و روی شکل نشان دهید.



۱۵. تساوی های زیر را کامل کنید.

_____ + _____ = $\frac{5}{7}$ _____ - _____ = $\frac{1}{8}$

۱۶. با ۷۲۰۰۰۰ تومان چه چیزهایی می توان خرید؟ (۲ مورد)

۱۷. عددی را که در جدول مشخص شده است ، بنویسید .

میلیون	هزار	
۲۴	۷۲۴	۹۶۸

با عدد :

با حروف :

۱۸. $\frac{3}{7}$ از محصول باغی باید به شهر حمل شود $\frac{1}{7}$ از این محصولات قبلاً حمل شده است . چه کسردیگری باید به شهر حمل شود ؟

۱۹. امروز آقای نقاش $\frac{3}{5}$ دیواری را آبی و $\frac{2}{5}$ بقیه را سبز کرد. چه کسری از دیوار رنگ شده است ؟

۲۰. برای شکل های زیر یک تفریق بنویسید .

